

**RALLYE PATRIMONIAL
DANS LES RUES DU VIEUX-VARENNES**



VARENNES

**RALLYE PATRIMONIAL
DANS LES RUES DU VIEUX-VARENNES**

Itinéraire

Une promenade d'environ 2,5 kilomètres dans les rues du quartier du Vieux-Varennés tout en longeant et découvrant de nombreux bâtiments et résidences qui ont participé à forger le caractère patrimonial de ce quartier historique. Une façon didactique et ludique de découvrir l'un des plus vieux quartiers de la ville. Pour profiter de la balade, il faut prévoir environ une heure.

Comment jouer

Trois catégories de questions vous seront présentées. Celles-ci doivent être répondues simultanément tout en suivant l'itinéraire proposé.

La première catégorie, appelée « Architecturale », consiste à retrouver dans le quartier du Vieux-Varennés, les éléments architecturaux présentés sur les photos numérotées de 1 à 6 et d'en noter l'adresse.

Pour les plus intrépides, un point boni sera ajouté pour chaque bonne réponse si vous associez correctement la photo avec l'un des termes architecturaux suivants :

Lanternon – Corbeau – Modillons – Fleuron – Esse – Fronton à larmier – Balcon de veuve

La deuxième catégorie, appelée « Patrimoniale », consiste à repérer les bâtiments historiques présentés sur des photos d'archives numérotées de 7 à 9 et d'en noter le nom ou l'adresse actuelle.

Pour les plus intrépides, un point boni sera ajouté pour chaque bonne réponse si vous trouvez quelle était la fonction du bâtiment ou qui était son propriétaire lors de la prise de la photo.

Pour les photos 10 à 12, identifier les bâtiments qui y apparaissent et notez-en l'adresse.

Pour les plus intrépides, un point boni sera ajouté pour chaque bonne réponse si vous trouvez qu'elle était son utilisation jadis.

La troisième catégorie, appelée « Historique », consiste à répondre aux questions numérotées 13 à 25 grâce au feuillet d'information « Découvrez le Vieux-Varennés et son patrimoine » qui vous a été remis. Aussi, votre sens de l'observation vous sera nécessaire puisque certaines réponses n'y figurent pas.

Pour les plus intrépides, un point boni sera ajouté pour chaque bonne réponse si vous solutionnez les questions étoiles de 13 à 25.





Règlements

Ce rallye s'adresse à des personnes de tous âges.

Il ne sera accepté qu'un seul bulletin de participation par concurrent.

Les bulletins de participation devront être remis au kiosque des Journées de la culture sur le parvis de la Basilique Sainte-Anne de Varennés, avant 16 h, lors de la clôture des Journées de la culture / La Chasse à l'Art, le dimanche 30 septembre 2007. Chaque participant recevra un coupon de participation afin de courir la chance de gagner l'oeuvre d'un artiste local dans le cadre de « La Chasse à l'art ». Un prix sera remis au participant ayant le plus grand nombre de points.

Bonne chance !



**RALLYE PATRIMONIAL
DANS LES RUES DU VIEUX-VARENNES**

Catégorie « Architecturale »

Questions 1 à 6

Retrouvez dans le quartier du Vieux-Varennnes les éléments architecturaux présentés sur les photos numérotées de 1 à 6, que vous trouverez à la page 4, et notez-en l'adresse sur la feuille réponse fournie à cet effet.

☆ **Boni** : Pour chacune des photos décoratives, associez l'un des termes architecturaux suivants :

Lanternon : Structure décorative construite à cheval sur le toit.

Corbeau : Pièce de bois à l'équerre sous une corniche pour soutenir autre chose.

Modillons : Petits supports placés sous la corniche offrant une décoration continue.

Fleuron : Élément décoratif offrant un prolongement excessif du triangle d'un toit.

Esse : Cheville de métal qui sert à renforcer les structures de maçonnerie.

Fronton à larmier : Couronnement d'une ouverture formée d'un cadre mouluré en saillie.

Balcon de veuve : Belvédère construit sur le toit d'un bâtiment et accessible de l'intérieur.

Catégorie « Patrimoniale »

Questions 7 à 12

Repérer les bâtiments historiques présentés sur les photos d'archives numérotées de 7 à 12, que vous trouverez à la page 4, et notez-en le nom ou l'adresse actuelle sur la feuille réponse fournie à cet effet.

☆ **Boni** : Pour chacune des photos de 7 à 12, écrivez quelle était la fonction du bâtiment ou qui en était le propriétaire lors de la prise de la photo.

Catégorie « Historique »

Questions 13 à 25

Répondez aux questions numérotées de 13 à 25 grâce au numéro inscrit en gris, qui est associé aux résidences inscrites dans le feuillet d'information « Découvrez le Vieux-Varennnes et son patrimoine », que vous rencontrerez sur votre chemin.

☆ **Boni** : Pour répondre aux questions bonis, vous aurez besoin du feuillet d'information « Découvrez le Vieux-Varennnes et son patrimoine », que vous rencontrerez sur votre chemin.

Question 13

2

Qui était Saint-Joachim, en l'honneur de qui la chapelle a été construite?

☆ **13** : Que peut-on lire sur la plaque à l'entrée de cette chapelle?

Question 14

5

Quelle a été la fonction de ce bâtiment dans les années 40?

☆ **14** : Nommez 3 fonctions qu'aurait eu ce bâtiment depuis sa construction?

Question 15

10

Quel commerce prenait place à l'étage inférieur de ce bâtiment?

☆ **15** : Combien compte-t-on de fenêtres sur les 2 côtés de cette demeure?

**RALLYE PATRIMONIAL
DANS LES RUES DU VIEUX-VARENNES**

Question 16

11

D'où proviendraient les pierres utilisées pour les fondations de cette maison bâtie en 1896?

☆ **16** : Quelle était l'épaisseur courante des fondations d'une résidence domestique vers la fin 1800?

Question 17

12

De quelle confession religieuse étaient les résidentes qui ont habité le bâtiment jusqu'en 1972?

☆ **17** : En quelle année débutèrent les enseignements de cette congrégation religieuse?

Question 18

16

Quelle était la profession du propriétaire de ce bâtiment lorsque celui-ci devint résidentiel?

☆ **18** : Combien peut-on trouver de « esse » sur la façade de ce bâtiment?

Question 19

17

Quel titre reçu cette église par un bref pontifical de Jean-Paul II et en quelle année?

☆ **19** : Combien de niches, cavités creusées pour y placer une sculpture, trouve-t-on sur la façade de cette somptueuse église?

Question 20

23

Nommez 4 types de cours qui ont été offerts au fil des ans au Collège Saint-Paul?

☆ **20** : Combien peut-on compter de lucarnes, fenêtres en saillie, sur le toit de la façade du bâtiment?

Question 21

24

Quelle profession a été exercée pendant 50 ans dans cette maison voisine du docteur Bousquet?

☆ **21** : Que peut-on lire sur l'enseigne placée au haut de la porte-fenêtre?

Question 22

25

Nommez 2 styles que l'on retrouve dans l'architecture de cette résidence bâtie en 1865?

☆ **22** : Combien de fleurons ornent les fenêtres encastrées de la toiture (aussi appelées lucarnes sans saillies).

Question 23

27

Nommez 2 professions qui ont été exercées dans cette maison au fil du temps?

☆ **23** : Que retrouve-t-on au centre du fronton triangulaire qui couronne la porte principale?

Question 24

31

Qui fut l'architecte qui orchestra la construction de cette chapelle suite au don du terrain par le Seigneur Lussier?

☆ **24** : Quel pape avait permis le couronnement du tableau miraculeux en 1842?

Question 25

35

Quel cousin de Pierre Le Moynes d'Iberville habita le manoir De Martigny et quel fut son rôle dans l'histoire?

☆ **25** : Quelle particularité patrimoniale retrouve-t-on sur la façade latérale de cette maison, à droite de la porte d'entrée?